

Prova final de Matemática - 3.º ciclo (2023, 1.ª fase)

Proposta de resolução



1. Como $\frac{13}{17}$ é uma razão de números inteiros, é um número racional, e por isso uma dízima finita ou infinita periódica.

Como $\sqrt{17}$, π e $\sqrt{13}$ são números irracionais, ou seja, representados por dízimas infinitas não periódicas, o quociente entre qualquer um destes valores e um qualquer número natural também é um número irracional correspondendo a uma dízima infinita não periódica.

Resposta: **Opção C**

2. Calculando 60% de 30,5 milhões de dormidas, ou seja, o crescimento esperado em 2023, relativamente ao ano de 2020, temos:

$$30,5 \times \frac{60}{100} = 18,3 \text{ milhões}$$

Assim, em 2023, a estimativa para o número de dormidas em estabelecimentos de alojamento turístico em Portugal, é:

$$30,5 + 18,3 = 48,8 \text{ milhões}$$

Pelo que, escrevendo este valor em notação científica, vem:

$$48\,800\,000 = 4,88 \times 10^7$$

3.

- 3.1. Como são 6 amigos, dos quais 4 fazer atividades no mar e os restantes preferem atividades em rios, então este último grupo é composto por $6 - 4 = 2$ amigos.

Assim, calculando a probabilidade, com recurso à Regra de Laplace, de escolher ao acaso um dos 6 amigos e este preferir fazer atividades em rios, temos:

$$p = \frac{2}{6} = \frac{1}{3}$$

Resposta: **Opção B**

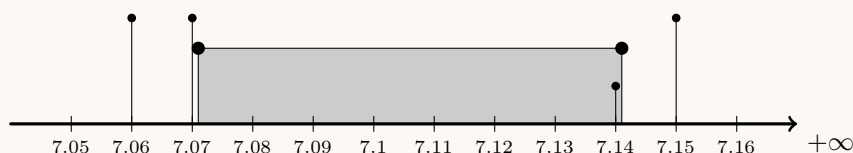
3.2. Organizando todas as atividades numa tabela por formar a observamos todos os pares de atividades diferentes que se podem organizar, temos:

	<i>surf</i> (S)	<i>bodyboard</i> (B)	<i>windsurf</i> (W)	<i>paddle</i> (P)	mergulho (M)	canoagem (C)
S	—	S + B	S + W	S+P	S+M	S+C
B	—	—	B + W	B + P	B + M	B + C
W	—	—	—	W + P	W + M	W + C
P	—	—	—	—	P + M	P + C
M	—	—	—	—	—	M + C
C	—	—	—	—	—	—

Assim, podemos observar que existem 15 pares de atividades diferentes podem ser sorteadas, dos quais 6 são constituídos por duas atividades que se realizam com prancha, ou seja, calculando a probabilidade pela Regra de Laplace, e apresentando o resultado na forma de fração irredutível, temos:

$$p = \frac{6}{15} = \frac{2}{5}$$

4. Como $\sqrt{50} \approx 7,071$ e $\sqrt{51} \approx 7,141$, logo $\sqrt{50} < 7,14 < \sqrt{51}$.



Resposta: **Opção C**

5. Temos que a área do triângulo $[ABC]$ é:

$$A_{[ABC]} = \frac{\overline{BC} \times \overline{AM}}{2} = \frac{15 \times 12}{2} = 90$$

Como os triângulos $[ABC]$ e $[AED]$ são semelhantes porque têm um ângulo comum e os lados opostos são paralelos, a razão das áreas de figuras semelhantes é o quadrado da razão de semelhança, ou seja:

$$r^2 = \frac{A_{[ABC]}}{A_{[AED]}} \Leftrightarrow r^2 = \frac{90}{10} \Leftrightarrow r^2 = 9 \underset{r>0}{\Rightarrow} r = \sqrt{9} \Leftrightarrow r = 3$$

Assim, como $[AP]$ e $[AM]$ são as alturas dos dois triângulos, temos que:

$$r = \frac{\overline{AM}}{\overline{AP}} \Leftrightarrow 3 = \frac{12}{\overline{AP}} \Leftrightarrow \overline{AP} = \frac{12}{3} \Leftrightarrow \overline{AP} = 4$$

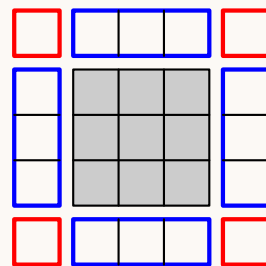
Assim, como $\overline{EF} = \overline{PM}$, temos que:

$$\overline{AP} + \overline{PM} = \overline{AP} \Leftrightarrow 4 + \overline{EF} = 12 \Leftrightarrow \overline{EF} = 12 - 4 \Leftrightarrow \overline{EF} = 8$$



6. Observando que no termo de ordem n , temos:

- n^2 quadrados cinzentos;
- 4 conjuntos de n quadrados brancos (limitados com cor azul na figura ao lado) e mais 4 quadrados (limitados com cor vermelha na figura ao lado), ou seja, um total de $4n + 4$ quadrados brancos.



Logo, o número total de quadrados na figura do termo de ordem n é $n^2 + 4n + 4$.

Assim a ordem do termo da sequência que tem um total de 529 quadrados é a solução da equação $n^2 + 4n + 4 = 529$.

Resolvendo a equação temos:

$$n^2 + 4n + 4 = 529 \Leftrightarrow n^2 + 4n + 4 - 529 = 0 \Leftrightarrow n^2 + 4n - 525 = 0 \Leftrightarrow n = \frac{-4 \pm \sqrt{4^2 - 4 \times 1 \times (-525)}}{2 \times 1} \Leftrightarrow$$

$$\Leftrightarrow n = \frac{-4 \pm \sqrt{16 + 2100}}{2} \Leftrightarrow n = \frac{-4 \pm \sqrt{2216}}{2} \Leftrightarrow n = \frac{-4 \pm 46}{2} \Leftrightarrow n = \frac{42}{2} \vee n = -\frac{50}{2} \Leftrightarrow n = 21 \vee n = -25$$

Logo, como a ordem de um termo é um número natural, temos que a ordem do termo é 21, a que correspondem $4 \times 21 + 4 = 88$ quadrados brancos.

7. Como uma equação do segundo grau da forma $ax^2 + bx + c = 0$ tem duas soluções reais distintas se $b^2 - 4ac > 0$, no caso da equação apresentada, temos que $a = 1$ e $b = -4$, pelo que:

$$(-4)^2 - 4(1)c > 0 \Leftrightarrow 16 - 4c > 0 \Leftrightarrow -4c > -16 \Leftrightarrow 4c < 16 \Leftrightarrow c < \frac{16}{4} \Leftrightarrow c < 4$$

Desta forma, de entre os valores apresentados, o único que gera uma equação com duas soluções reais distintas é o 3.

Resposta: **Opção A**

8. Como a área do retângulo $[GHIJ]$ é $25,8 \text{ m}^2$, e a altura do prisma é $\overline{BH} = 4 \text{ m}$, temos que o seu volume é:

$$V_{[BCEFGHIJ]} = A_{[GHIJ]} \times \overline{BH} = 25,8 \times 4 = 103,2 \text{ m}^3$$

Assim, o volume do prisma triangular $[ABCDEF]$, é a diferença entre o volume do sólido e do volume do prisma retangular $[BCEFGHIJ]$:

$$V_{[ABCDEF]} = V_{\text{total}} - V_{[BCEFGHIJ]} = 134,1 - 103,2 = 30,9 \text{ m}^3$$

9. Como f é uma função afim, cujo gráfico contém o ponto de coordenadas $(0,2)$, a sua expressão algébrica é da forma $f(x) = mx + 2, m \in \mathbb{R}$.

Pela observação do gráfico podemos verificar que o gráfico da função f é uma reta de declive positivo, pelo que, de entre as opções apresentadas, a única que pode definir a função f é $f(x) = 4x + 2$.

Resposta: **Opção D**



10. Como D pertence à semirreta $\hat{A}C$, então $D\hat{C}A = 180^\circ$, pelo que:

$$B\hat{C}A = D\hat{A}C - B\hat{C}D = 180 - 100 = 80^\circ$$

Como o ângulo BAC é o ângulo inscrito relativo ao arco AB , a amplitude do arco é o dobro da amplitude do ângulo, ou seja:

$$\widehat{BA} = 2 \times B\hat{C}A = 2 \times 80 = 160^\circ$$

E assim, temos que:

$$B\hat{C}A = 360 - \widehat{BA} = 360 - 160 = 200^\circ$$

11.

11.1. Como M é o ponto médio de $[AB]$ temos que:

$$\overline{MB} = \frac{\overline{AB}}{2} = \frac{2,2}{2} = 1,1 \text{ m}$$

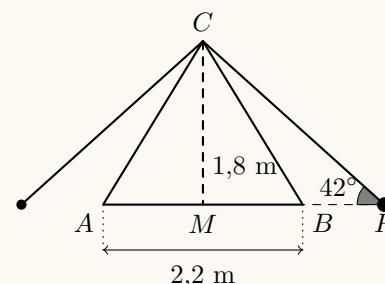
O triângulo $[CBM]$ é retângulo em M (porque o triângulo $[ABC]$ é isósceles), logo, recorrendo ao Teorema de Pitágoras, para calcular o valor de \overline{BC} :

$$\overline{BC}^2 = \overline{CM}^2 + \overline{MB}^2 \Leftrightarrow \overline{BC}^2 = 1,8^2 + 1,1^2 \Leftrightarrow \overline{BC}^2 = 3,24 + 1,21 \Leftrightarrow \overline{BC}^2 = 4,45 \xRightarrow{\overline{BC} > 0} \overline{BC} = \sqrt{4,45} \text{ m}$$

Assim, como $\sqrt{4,45} \approx 2,1$, o valor de \overline{BC} em metros, arredondado às unidades é 2 m.

11.2. Como o triângulo $[PMC]$ é retângulo em M , então o lado $[MP]$ é o cateto adjacente ao ângulo CPM e o lado $[CM]$ é o cateto oposto ao mesmo ângulo, pelo que, usando a definição de tangente de um ângulo, e como $\overline{CM} = 1,8$ temos:

$$\text{tg} (C\hat{P}M) = \frac{\overline{CM}}{\overline{PM}} \Leftrightarrow \text{tg} 42^\circ = \frac{1,8}{\overline{PM}} \Leftrightarrow \overline{PM} = \frac{1,8}{\text{tg} 42^\circ}$$



Assim, como $\overline{MB} = \frac{2,2}{2} = 1,1$, calculando a distância de P a B , em metros, e arredondando o resultado às décimas, temos:

$$\overline{PB} = \overline{PM} - \overline{MB} = \frac{1,8}{\text{tg} 42^\circ} - 1,1 \approx 0,9 \text{ m}$$

12. Resolvendo a inequação, temos:

$$\frac{3(1-x)}{4} \geq \frac{x}{3} + 1 \Leftrightarrow \frac{3-3x}{4} \geq \frac{x}{3} + 1 \Leftrightarrow \frac{3-3x}{4} \underset{(3)}{\geq} \frac{x}{3} \underset{(4)}{+} \frac{1}{1} \underset{(12)}{\Leftrightarrow} \frac{9-9x}{12} \geq \frac{4x}{12} + \frac{12}{12} \Leftrightarrow$$

$$\Leftrightarrow 9 - 9x \geq 4x + 12 \Leftrightarrow -9x - 4x \geq 12 - 9 \Leftrightarrow -13x \geq 3 \Leftrightarrow 13x \leq -3 \Leftrightarrow x \leq -\frac{3}{13}$$

$$\text{C.S.} = \left] -\infty, -\frac{3}{13} \right]$$



13. Observando os dois gráficos, temos que:

- o gráfico A não representa a função f porque neste gráfico $f(0) \neq 0$. Ou seja, quando o barco parte, o tempo decorrido desde o início da viagem é zero e a distância a que o barco se encontra do local de partida também é zero, pelo que o ponto de coordenadas $(0,0)$ tem que pertencer ao gráfico da função;
- o gráfico B também não representa a função f porque o barco fica parado no cais durante a visita pedestre à ilha, pelo que durante este período a distância ao ponto de partida não varia, ao contrário do que é indicado pelo gráfico B, em que não existe nenhum período de tempo em que a distância se mantém constante.

14. Determinando a ordenada do ponto A , recorrendo à expressão algébrica da função f , temos:

$$y_A = f(2) = 3 \times 2^2 = 3 \times 4 = 12$$

Como o ponto A também pertence ao gráfico da função g , temos que $g(2) = 12$, pelo que, substituindo as coordenadas do ponto na expressão algébrica da função g , temos:

$$g(2) = \frac{a}{2} \Leftrightarrow 12 = \frac{a}{2} \Leftrightarrow 12 \times 2 = a \Leftrightarrow a = 24$$

15. Como média dos valores registados na tabela, incluindo o valor representado por k , é 1122, temos que:

$$\frac{770 + k + 2900 + 1500 + 262 + 1000}{6} = 1122 \Leftrightarrow k + 6432 = 1122 \times 6 \Leftrightarrow$$

$$\Leftrightarrow k + 6432 = 6732 \Leftrightarrow k = 6732 - 6432 \Leftrightarrow k = 300$$



16. Calculando o aumento do número de dormidas, de 2020 para 2021, nas diferentes regiões, temos:

Regiões (Portugal Continental)	Número de dormidas (milhões)		Aumento	
	2020	2021		
Alentejo	0,3	0,5	$0,5 - 0,3 = 0,2$	Menor aumento
Algarve	4,1	5,6	$5,6 - 4,1 = 1,5$	
Área Metropolitana de Lisboa (AML)	3,3	5,1	$5,1 - 3,3 = 1,8$	Maior aumento
Centro	0,7	1,4	$1,4 - 0,7 = 0,7$	Aumentou 100%
Norte	1,6	2,5	$2,5 - 1,6 = 0,9$	

E assim podemos verificar que:

- (1) A região onde o aumento foi mais elevado foi na Área Metropolitana de Lisboa.
- (2) A região onde o aumento foi menor foi no Alentejo.
- (3) Na região Centro o número duplicou, o que corresponde a um aumento de 100%.

		Alentejo	Algarve	AML	Centro	Norte
(1)	Região onde o aumento do número de dormidas, em milhões, de 2020 para 2021, foi o mais elevado.			X		
(2)	Região onde o aumento do número de dormidas, em milhões, de 2020 para 2021, foi o mais baixo.	X				
(3)	Região onde o número de dormidas, de 2020 para 2021, aumentou 100%.				X	

