

**PROVA 735/12 Págs.**

# **EXAME NACIONAL DO ENSINO SECUNDÁRIO**

**10.º/11.º ou 11.º/12.º Anos de Escolaridade**

**Decreto-Lei n.º 74/2004, de 26 de Março**

**Duração da prova: 150 minutos**  
**2007**

**2.ª FASE**

## **PROVA ESCRITA DE MATEMÁTICA B**

---

Identifique claramente os itens a que responde.

Utilize apenas caneta ou esferográfica de tinta azul ou preta (excepto nas respostas que impliquem a elaboração de construções, desenhos ou outras representações).

É interdito o uso de «esferográfica-lápis» e de corrector.

As cotações da prova encontram-se na página 11.

A prova inclui um formulário (página 12).

Em todos os itens da prova, apresente o seu raciocínio de forma clara, indicando todos os cálculos que tiver de efectuar e todas as justificações necessárias.

Apresente uma única resposta a cada item. Se escrever mais do que uma resposta, deve indicar, de forma inequívoca, a que pretende que seja classificada (riscando todas as que pretende anular).

Sempre que, na resolução de um problema, recorrer à sua calculadora, apresente todos os elementos recolhidos na sua utilização. Mais precisamente:

- sempre que recorrer às capacidades gráficas da sua calculadora, apresente o gráfico, ou gráficos, obtido(s), bem como coordenadas de pontos relevantes para a resolução do problema proposto (por exemplo, coordenadas de pontos de intersecção de gráficos, máximos, mínimos, etc.);
- sempre que recorrer a uma tabela obtida na sua calculadora, apresente todas as linhas da tabela relevantes para a resolução do problema proposto;
- sempre que recorrer a estatísticas obtidas na sua calculadora (média, desvio padrão, coeficiente de correlação, declive e ordenada na origem de uma recta de regressão, etc.), apresente as listas que introduziu na calculadora para as obter.

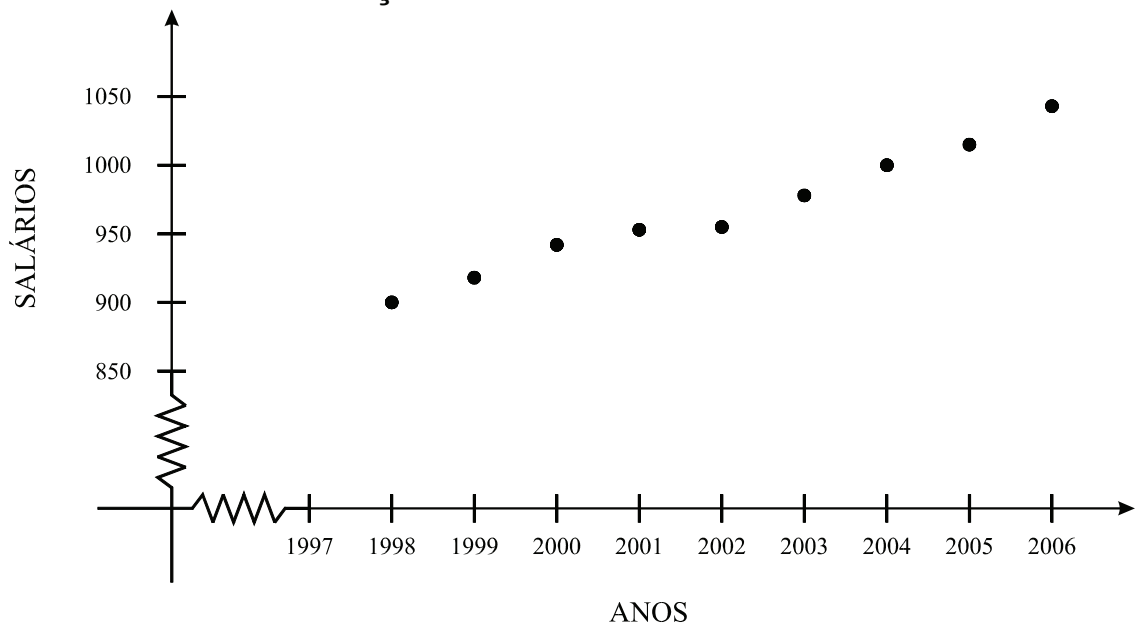
1. A evolução da massa salarial de um conjunto de trabalhadores é, por vezes, explicável através de modelos matemáticos.

Numa dada empresa, fez-se um estudo comparativo da evolução dos vencimentos (em euros) de dois trabalhadores, **A** e **B**, entre 1998 e 2006.

- Relativamente ao trabalhador **A**, o valor do vencimento mensal em cada ano, no período compreendido entre 1998 e 2006, é apresentado na tabela seguinte e reproduzido num diagrama de dispersão.

Anos	1998	1999	2000	2001	2002	2003	2004	2005	2006
Salário	900	918	942	953	955	978	1000	1015	1043

**Evolução do salário do trabalhador A**



- Relativamente ao trabalhador **B**, sabe-se que, em 1998, recebia mensalmente 652 euros e que, nos anos seguintes, referentes ao período em estudo, o valor do seu vencimento mensal pode ser obtido através do modelo

$$v_n = 652 \times 1,0502^{n-1}$$

**Nota:** a variável  $n$  está associada aos anos relativos ao período em estudo, concretamente,  $n = 1$  corresponde a 1998,  $n = 2$  corresponde a 1999, etc.

**1.1. Utilizando a sua calculadora**, indique um valor aproximado do coeficiente de correlação linear entre as variáveis descritas na tabela (anos/salário) referente ao trabalhador **A**. Apresente o resultado com duas casas decimais.

Interprete esse valor, tendo em conta o diagrama de dispersão correspondente.

**1.2.** Tome em atenção que o modelo que traduz a evolução do salário do trabalhador **B** é uma progressão geométrica.

**1.2.1.** Indique o primeiro termo e a razão da progressão geométrica em questão.

**1.2.2.** Um trabalhador auferê, por ano, 12 ordenados mensais mais o subsídio de férias e o décimo terceiro mês, ambos com valor igual ao do ordenado mensal.

Utilizando a fórmula apropriada (que faz parte do formulário), calcule, aproximadamente, o valor da totalidade dos vencimentos auferidos pelo trabalhador **B** entre 1998 e 2006, inclusive.

Apresente o resultado arredondado às unidades.

**Nota:** Sempre que, em cálculos intermédios, proceder a arredondamentos, conserve, no mínimo, duas casas decimais.

- 2.** O campo de futebol de um dado clube tem uma bancada destinada a não sócios, que leva 4 000 espectadores. Se o preço de cada bilhete for 10 euros, prevê-se que a lotação dessa bancada fique esgotada.

Com base em experiências anteriores, verifica-se que, se o preço de cada bilhete for aumentado numa certa percentagem,  $x$ , sobre o valor base (10 euros), o número de espectadores baixa metade dessa percentagem. Por exemplo, se o preço dos bilhetes aumentar 10% ,  $x = 0,1$ , o número de espectadores sofre um decréscimo de 5%.

Admitindo a exactidão do modelo descrito e considerando sempre o aumento percentual,  $x$ , sobre o preço base (10 euros), responda às questões que se seguem.

- 2.1.** Mostre que, se  $x$  for o aumento percentual do preço de cada bilhete para aquela bancada, num dado jogo, então a receita de bilheteira,  $R$ , é dada por:

$$R(x) = - 20\,000 x^2 + 20\,000 x + 40\,000 , \text{ com } 0 \leq x \leq 2$$

**Tenha em atenção que:**

- o preço de cada bilhete,  $p$ , em função do aumento percentual,  $x$ , é dado por  $p(x) = 10(1 + x)$
- o número de espectadores,  $n$ , em função do aumento percentual,  $x$ , é dado por  $n(x) = 4\,000 - 2\,000 x$

- 2.2.** Um dos elementos da direcção do clube sugere que o preço de cada bilhete seja de 20 euros, para serem maximizadas as receitas de bilheteira. Porém, um segundo elemento da direcção opõe-se, dizendo que o ideal é manter o preço de cada bilhete a 10 euros, uma vez que as receitas de bilheteira são superiores se assim for.

**Num pequeno texto**, comente o argumento de cada um dos elementos da direcção do clube, tendo em conta o objectivo de maximizar as receitas de bilheteira.

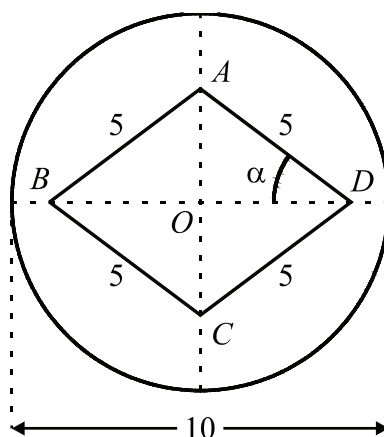
**Deve incluir, obrigatoriamente, na sua resposta:**

- o valor da percentagem,  $x$ , que a direcção do clube deve aplicar sobre o preço base (10 euros), para que se maximizem as receitas de bilheteira, e o respectivo valor da receita (no caso de discordar da opinião de cada um dos elementos da direcção);
- um argumento, fundamentado, referente às propostas de cada um dos elementos da direcção, dizendo se concorda, ou não, com elas;
- todos os elementos recolhidos na utilização da sua calculadora gráfica que se tenham mostrado relevantes.

- 2.3.** À entrada para o recinto do jogo, cada espectador, sócio ou não sócio, recebeu um cartão numerado para se habilitar a um sorteio. Estavam presentes 6825 espectadores, dos quais 40% eram não sócios. Foram sorteados, simultaneamente, dois números. Qual a probabilidade de ambos os contemplados serem sócios?

Apresente o resultado final com aproximação às centésimas.

3. Numa determinada localidade, o responsável pelo planeamento urbanístico apresentou uma proposta para a construção de uma rotunda com 10 metros de diâmetro. No centro da rotunda, pretende-se construir um jardim em forma de losango, com 20 metros de perímetro, como sugere a figura. À volta do jardim, serão colocados calçada e outros elementos decorativos.



Relativamente à figura, considere que:

- os pontos  $A$ ,  $B$ ,  $C$  e  $D$  são os vértices do losango;
- o ponto  $O$  é o centro da circunferência;
- o ângulo  $ADO$  tem de amplitude  $\alpha$ ,  $0 < \alpha < \frac{\pi}{2}$

- 3.1. Mostre que a área, em  $m^2$ , da zona destinada ao jardim é dada, em função de  $\alpha$ , por:

$$A(\alpha) = 50 \cos \alpha \cdot \operatorname{sen} \alpha, \quad 0 < \alpha < \frac{\pi}{2}$$

- 3.2. Determine  $A\left(\frac{\pi}{4}\right)$ .

Interprete geometricamente o resultado obtido, indicando qual a forma particular do losango, para  $\alpha = \frac{\pi}{4}$



- 4.** No período de testes que antecedeu a entrada em funcionamento de um gasómetro, com capacidade de 100 toneladas, procedeu-se ao seu enchimento, continuamente, durante 24 horas.

Por razões de segurança, o gasómetro foi lastrado com 2,5 toneladas de gás, após o que se iniciou a operação de enchimento. A partir daí, o seu enchimento foi feito de acordo com o modelo:

$$M(t) = \frac{100}{1+39e^{-0,49t}}, \text{ sendo } 0 \leq t \leq 24$$

( $M$  representa a massa total, expressa em toneladas, existente no gasómetro  $t$  horas desde o início do seu enchimento.)

**Nota:** Na resolução das questões seguintes, sempre que, em cálculos intermédios, proceder a arredondamentos, conserve duas casas decimais.

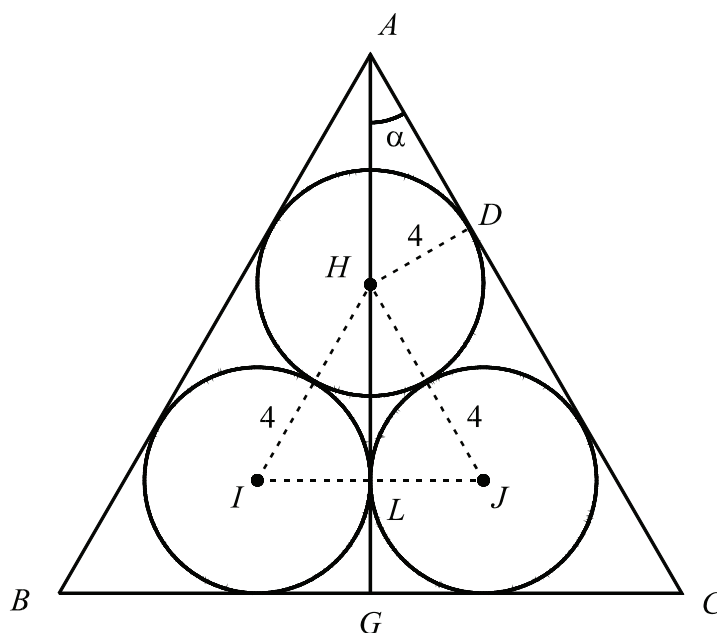
- 4.1.** Qual era a massa total, aproximada, existente no gasómetro 3 horas após o início do seu enchimento?

Apresente o resultado arredondado às centésimas.

- 4.2.** Durante o período em que decorre o enchimento do gasómetro, fará sentido afirmar que existe um dado intervalo de tempo em que a taxa de variação média do modelo assume um valor negativo?

Justifique devidamente a sua resposta.

5. Para vedar três canteiros circulares, com 4 metros de raio cada, um agricultor decidiu colocar uma rede em forma de triângulo equilátero,  $[ABC]$ , como a figura sugere.



Relativamente à figura, considere que:

- as circunferências são tangentes entre si;
- os lados do triângulo são tangentes às circunferências;
- os pontos  $H$ ,  $I$  e  $J$  são os centros das circunferências;
- $G$  é o ponto médio de  $[BC]$ ;
- $D$  é ponto do lado  $[AC]$  tangente à circunferência de centro  $H$ ;
- $L$  é ponto de tangência das circunferências de centros  $I$  e  $J$ , respectivamente;
- $\alpha$  é a amplitude do ângulo  $DAH$ .

Quantos metros da rede mencionada necessita, aproximadamente, o agricultor para vedar os três canteiros?

Apresente o resultado final arredondado às unidades.

**Nota:** Sempre que, em cálculos intermédios, proceder a arredondamentos, conserve três casas decimais.

**Sugere-se que:**

- determine a altura do triângulo  $[HIJ]$ ;
- determine a altura do triângulo  $[ABC]$ ;
- determine o lado do triângulo  $[ABC]$ .

**FIM**

## COTAÇÕES

**1. .... 32 pontos**

1.1 ..... 12 pontos

1.2. .... 20 pontos

1.2.1. .... 8 pontos

1.2.2. .... 12 pontos

**2. .... 60 pontos**

2.1. .... 16 pontos

2.2. .... 24 pontos

2.3. .... 20 pontos

**3. .... 44 pontos**

3.1. .... 22 pontos

3.2. .... 22 pontos

**4. .... 40 pontos**

4.1. .... 18 pontos

4.2. .... 22 pontos

**5. .... 24 pontos**

**TOTAL ..... 200 pontos**

## Formulário

### Comprimento de um arco de circunferência

$\alpha r$  ( $\alpha$  – amplitude, em radianos, do ângulo ao centro;  $r$  – raio)

### Áreas de figuras planas

Losango:  $\frac{\text{Diagonal maior} \times \text{Diagonal menor}}{2}$

Trapézio:  $\frac{\text{Base maior} + \text{Base menor}}{2} \times \text{Altura}$

Polígono regular:  $\text{Semiperímetro} \times \text{Apótema}$

Sector circular:  $\frac{\alpha r^2}{2}$  ( $\alpha$  – amplitude, em radianos, do ângulo ao centro;  $r$  – raio)

### Áreas de superfícies

Área lateral de um cone:  $\pi r g$   
( $r$  – raio da base;  $g$  – geratriz)

Área de uma superfície esférica:  $4 \pi r^2$   
( $r$  – raio)

### Volumes

Pirâmide:  $\frac{1}{3} \times \text{Área da base} \times \text{Altura}$

Cone:  $\frac{1}{3} \times \text{Área da base} \times \text{Altura}$

Esfera:  $\frac{4}{3} \pi r^3$  ( $r$  – raio)

### Progressões

Soma dos  $n$  primeiros termos de uma

Prog. Aritmética:  $\frac{u_1 + u_n}{2} \times n$

Prog. Geométrica:  $u_1 \times \frac{1 - r^n}{1 - r}$